

1 Ecris le nombre de voitures de plusieurs façons :




$$\underline{6} + \underline{6} + \underline{6} = 18$$

$$\underline{3} + \underline{3} + \underline{3} + \underline{3} + \underline{3} + \underline{3} = 18$$


On peut aussi écrire :  $\underline{6} \times \underline{3}$  ou  $\underline{3} \times \underline{6}$

2 Voici 12 pommes, Lisa a fait plusieurs paquets.


Complète les calculs:



$$\underline{2} \times \underline{6}$$



$$\underline{4} \times \underline{3}$$



$$\underline{3} \times \underline{4}$$

### Problème :

Mathilde est malade. Le médecin lui a dit de prendre 2 cuillères à soupe de sirop pendant 5 jours.

Combien Mathilde va-t-elle devoir prendre de cuillères de sirop?

dessin ou calcul :

$$2+2+2+2+2=10$$
$$2 \times 5 = 10$$

phrase réponse :

Elle doit prendre 10 cuillères de sirop