









JOUR : Mardi 14 avril

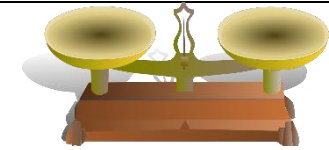
Un site pour mettre en place de petites expériences en sciences, les élèves adorent ça en général, envoyez-moi des photos si vous le pouvez :

<https://kidiscience.cafe-sciences.org/experiences-a-la-maison/>

FRANÇAIS	Luan	Faire la fiche de graphisme PJ9M . C'est vrai que Pâques est passée mais ça fait toujours plaisir de décorer un œuf !
	Jie-Lian, Ayane, Noah	Alphabet : Fiches d'exercices sur les graphies PJ6M1 et PJ6M2 . Ayane n'a plus besoin de coller les étiquettes, il peut écrire les mots dans les 3 graphies sur un cahier : BANANE CAMION banane camion 
	Andy, Kenza, Rayan, Ivan	Son /ai, ei/ Dans la fiche de son PJ2M , surligne ou souligne le son /ai/ ou /ei/. Lis les mots. Fais la fiche d'exercice PJ3M .
	Gabrielle, Naima, Emma, Stény	Son : Un exercice en ligne sur la lettre h ici : https://www.clicmaclasse.fr/activites/sons/h/son_h_ex01.html

		<p>Lire la fiche de la lettre H en PJ4M. Faire la fiche d'exercice PJ5M.</p>
<p>MATHS</p>	<p>Luan</p>	<p>Modelage : Avec de la pâte à modeler ou de la pâte à sel, construis un panier avec des œufs à l'intérieur :</p> 
	<p>Jie-Lian,</p>	<p>Modelage : réalise ce modelage en suivant bien les étapes : PJ10M</p>
	<p>Kenza, Emma, Ayane, Noah, Rayan</p>	<p>Petits Problèmes : La fiche de correction des problèmes de vendredi est en PJ1.</p> <p>Mesures : les masses. A l'oral, classe ces objets et animaux du plus léger au plus lourd.</p> <div data-bbox="958 863 1487 1329" style="display: flex; flex-wrap: wrap; justify-content: space-around;"> <div style="text-align: center;">  une plume </div> <div style="text-align: center;">  une moto </div> <div style="text-align: center;">  des bottes </div> <div style="text-align: center;">  une brouette </div> <div style="text-align: center;">  des boules (sapin) </div> <div style="text-align: center;">  un morse </div> </div> <p>Réponses en bas de page.</p>

Ceci est une balance Roberval, elle penche vers le côté où le poids est le plus lourd ?
As-tu déjà joué à cela ?




Fais l'exercice **PJ7M**.

Ivan, Naima, Andy, Gabrielle, Stény

Petits Problèmes : La fiche de correction des problèmes de vendredi est en **PJ1**.

Mesures : les masses.

A l'oral, classe ces objets et animaux du plus léger au plus lourd.



Réponses en bas de page.

		<p>Ceci est une balance Roberval, elle penche vers le côté où le poids est le plus lourd ? As-tu déjà joué à cela ?</p> 	 <p>vers le</p>
<p>BONUS pour tous</p>	<p>Correction image mystère : UNE CHENILLE</p>  <p>Rébus :</p>  <p>Indice : On les trouve en Egypte.</p> <p style="text-align: right;"><small>Devinettedujour.com</small></p>		

Réponse classement : Une plume , des boules, des bottes, une brouette, une moto, un morse.