

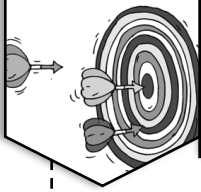


Énigmes

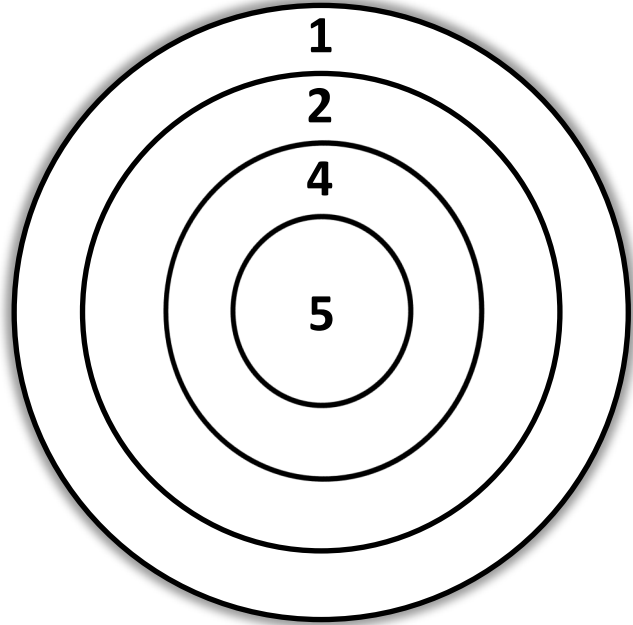

lundi mardi mercredi jeudi vendredi samedi dimanche



/ /



Aldo a lancé 4 fléchettes et a obtenu 16 points.
Dessine les fléchettes à la bonne place dans la cible.



Énigmes fiche 1 A CP

l'potâme.



Énigmes

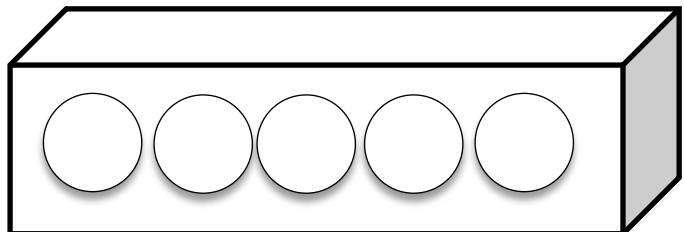

lundi mardi mercredi jeudi vendredi samedi dimanche



/ /



Aide Bazil à ranger ses 5 balles :
Il y a deux balles entre les 2 balles bleues.
Il y a une balle rouge à gauche de la verte.
La balle jaune est placée au bout à droite.



Énigmes fiche 1 B CP