

Exercice:

Entoure le milieu des segments

1/Milieu du segment [AB] :



2/ Milieu du segment [CD] :



Exercice :

Réponds aux questions :



I est le milieu de [AB]

Vrai ou Faux ?

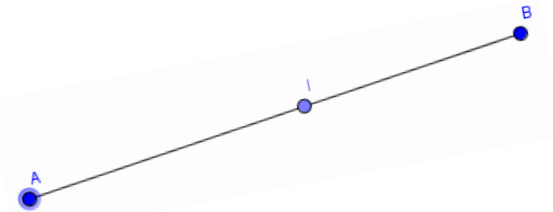
.....



I est le milieu de [AB]

Vrai ou Faux ?

.....



I est le milieu de [AB]

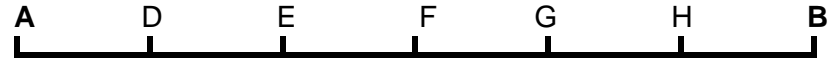
Vrai ou Faux ?

.....

Exercice:

Entoure le milieu des segments

1/Milieu du segment [AB] :



2/ Milieu du segment [CD] :



Exercice :

Réponds aux questions :



I est le milieu de [AB]

Vrai ou Faux ?

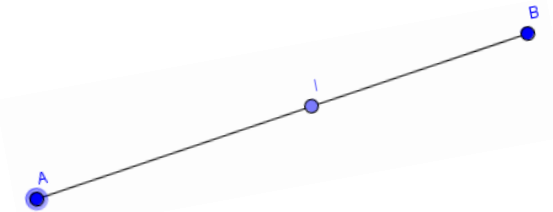
.....



I est le milieu de [AB]

Vrai ou Faux ?

.....



I est le milieu de [AB]

Vrai ou Faux ?

.....