


CALCUL MENTAL

Résoudre des problèmes additifs ou soustractifs. Ex. : J'ai 15 billes, j'en gagne 8. J'ai 19 bonbons, j'en mange 7.



1 Complète avec les mois de l'année.

Janvier
Mai
.....	Octobre

2 Complète le calendrier, puis complète les phrases.

Novembre							Décembre						
Lun	Mar	Mer	Jeu	Ven	Sam	Dim	Lun	Mar	Mer	Jeu	Ven	Sam	Dim
					1	2					4		
3	4	5	6	7	8	9		9					12
10	11	12	13	14	15	16							
17	18	19	20	21	22	23	22				25		
24	25	26	27	28	29	30	30	31					

Quel est le 4^e vendredi du mois de décembre ?

C'est le vendredi décembre.

Quel jour est le 25 décembre ?

Le 25 décembre est un

Quelle date vient après le 30 novembre ?

Après le 30 novembre, c'est le

3 Archi va à la piscine 4 jeudis de suite à partir du 6 novembre. Complète les dates.

Jeu	6
Jeu
Jeu
Jeu

Au mois de décembre Archi ira à la piscine le 1^{er} jeudi du mois.

Ce sera le jeudi décembre.

4 Observe le calendrier de l'exercice 2, puis complète les phrases.

Lali est partie en vacances du 20 décembre au 3 janvier.

Quel jour est-elle partie ?

Elle est partie le 20 décembre.

Quel jour est-elle revenue ?

Elle est revenue le 3 janvier.

Combien de jours est-elle partie ?

Elle est partie jours.

Combien de semaines est-elle partie ?

Elle est partie semaines.

CALCUL MENTAL

Coder des additions répétées sous forme d'une multiplication.

Ex. : $4 + 4 + 4 = 3 \times 4$.



1 Complète les phrases.

Nombre d'élèves pratiquant un sport					
	Judo	Handball	Danse	Basket	Tennis
Classe A	2	5	1	0	4
Classe B	0	0	9	3	6
Classe C	5	3	0	10	0
Classe D	1	7	2	5	3
Classe E	0	1	2	3	4



Combien y a-t-il de classes dans l'école ? Il y a classes dans l'école.

Combien de sports différents sont proposés ? sports différents sont proposés.

Combien d'élèves pratiquent le basket dans la classe C ?

..... élèves pratiquent le basket dans la classe C.


Dans quelle classe y a-t-il 3 élèves qui pratiquent le tennis ?

3 élèves pratiquent du tennis dans la classe



2

Un glacier a compté le nombre de boules vendues dans la journée selon leur parfum. Il a fait le graphique suivant.



Complète.

Combien de boules à la vanille le glacier a-t-il vendues ?

Le glacier a vendu boules à la vanille.

Quel est le nombre de boules de parfum qui a été le moins vendu ?

Quels sont les deux parfums qui ont été autant vendus l'un que l'autre ?

Les parfums qui ont été autant vendus sont et



CALCUL MENTAL

Faire rechercher un nombre inférieur à 1 000 à partir d'une description.
Ex. : Je suis la moitié de 500.

.....


.....

.....

.....

.....

- 1 Lali habite à 478 m de l'école, Nino à 783 m et Icham à 93 m.
Écris le prénom de chaque enfant devant sa maison.



- 2 **PROBLÈME** Quel enfant a le plus d'argent ?



J'ai 6 billets de 100 €
5 billets de 10 € et
7 pièces de 1 €.

Nino a



J'ai 5 billets de 100 €
22 billets de 10 € et
8 pièces de 1 €.

Lali a

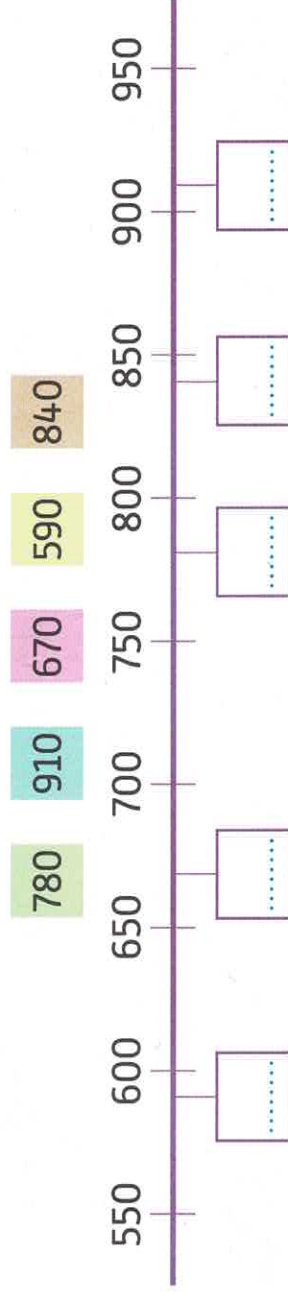


J'ai 7 billets de 100 €
3 billets de 10 € et
3 pièces de 1 €.

Mila a

C'est qui a le plus d'argent.

- 3 Place les nombres suivants sur la droite graduée.



- 4 Encadre les nombres entre la centaine juste avant et la centaine juste après.

$$200 < 230 < 300$$

$$..... < 489 <$$

$$..... < 512 <$$

$$..... < 888 <$$

$$..... < 601 <$$

- 5 Encadre les nombres entre la dizaine juste avant et la dizaine juste après.

$$450 < 454 < 460$$

$$..... < 678 <$$

$$..... < 807 <$$

$$..... < 598 <$$

$$..... < 789 <$$