

## Travail pour le mardi 14 avril 2020

### De 10h à 11h : Réunion la 1<sup>ère</sup>, les cours de la maison Lumni pour les CP-CE1

→ Cette émission n'est pas obligatoire mais conseillé.

Activité	Mardi 14
<b>Calcul mental</b>	Dictée de nombres le parent dit, l'enfant écrit en chiffre : 465 /582 /371 /893 /699
<b>Numération</b>  Le nombre du jour	254  dessiner, écrire en lettres, écrire son nombre de dizaines, écrire l'addition des oreilles, écrire l'addition des 100, une addition au choix, ce nombre + 1 /ce nombre -1 et une soustraction dans CB
<b>Math</b>	<u>Les doubles et les moitiés</u> page 2 Avant de faire la fiche, <b>rappeler que la moitié, c'est lorsque l'on partage en deux parts égales ; et le double c'est quand on additionne deux fois le même nombre.</b> Puis faire calculer à l'oral : 1+1, 2+2, 3+3 ... jusqu'à 10+10
<b>Français</b>	<u>Grammaire</u> : Tout d'abord, un rappel sur <i>Le nom</i> : <a href="https://www.youtube.com/watch?v=x5H2NULTiPE">https://www.youtube.com/watch?v=x5H2NULTiPE</a> Puis regarder cette vidéo sur <i>Le groupe nominal</i> : <a href="https://www.youtube.com/watch?v=zyszN5re2ek">https://www.youtube.com/watch?v=zyszN5re2ek</a> Exercices page 3
	Ces exercices peuvent tous être fait dans le cahier bleu sans imprimer la page 3. Il n'est pas utile de recopier les consignes, juste les rappeler à votre enfant à chaque fois que nécessaire.
<b>ASP maïf</b>	<b>FRANÇAIS</b> / grammaire et conjugaison : distinguer le GN sujet et le groupe verbal. Faire tous les exercices.
	<b>MATHS</b> / Nombres et calculs : calculer un complément Faire tous les exercices.
<b>Ebookids</b> Facultatif	Lire « <i>Pâques</i> »
<b>Et...</b> Facultatif	<u>Origami</u> : Le lapin page 4

Vous avez jusqu'à vendredi 17 avril au soir pour envoyer le travail de votre enfant.

Nom : .....

• Connaître et savoir utiliser les doubles et les moitiés.

Date : .....

Exercices

Doubles et moitiés

Calcul

<http://www.i-profs.fr>**1** Colorie de la même couleur les doubles et leur écriture.

6

9 + 9

4

14

5 + 5

8

3 + 3

10

1 + 1

4 + 4

18

2 + 2

2

12

6 + 6

7 + 7

**2** Colorie de la même couleur les nombres et leur moitié.

20

7

11

16

26

25

50

13

9

14

22

18

40

8

**3** Complète le tableau quand c'est possible, sinon mets une croix dans la case.

	Son double	Sa moitié
12	...	...
9	...	...
25	...	...
20	...	...
8	...	...
10	...	...
14	...	...

1/ Dans ces groupes nominaux, surligne le nom et colorie le déterminant.  
Écris *N* sous le nom, *D* sous le déterminant :

*une grande chambre*

*des fleurs sauvages*

*un escargot minuscule*

*ma petite sœur*

*l'araignée noire*

*les belles pommes rouges*

*du chocolat*

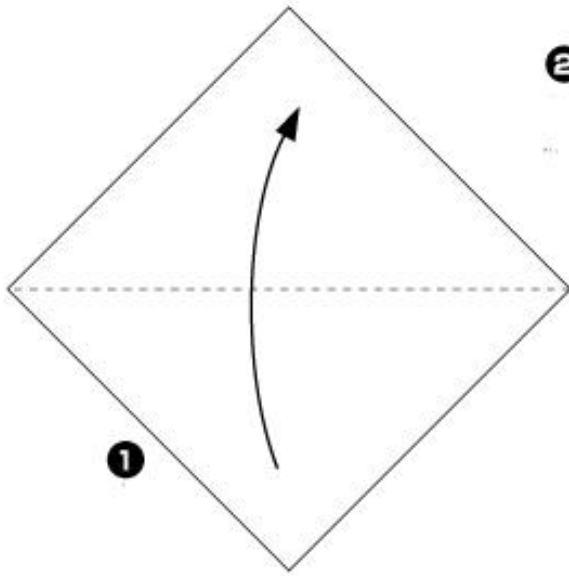
*l'oiseau*

2/ Barre l'intrus dans chaque liste.

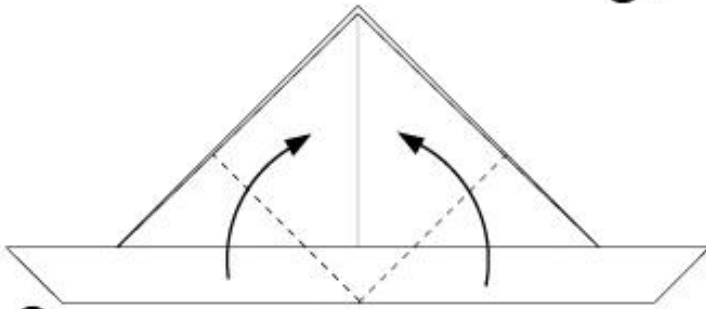
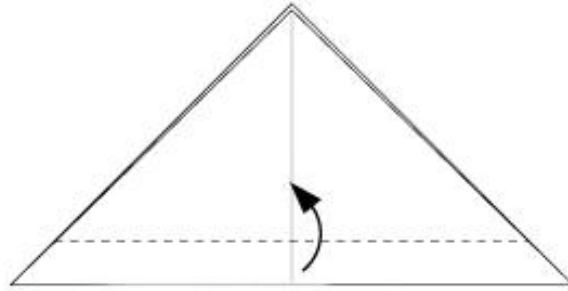
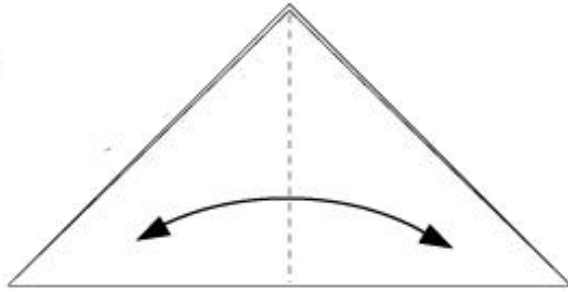
a/ le parapluie vert – il joue – une jolie jupe – le méchant chien

b/ un couteau aiguisé – un élève curieux – vous tombez bien – l'excellent repas

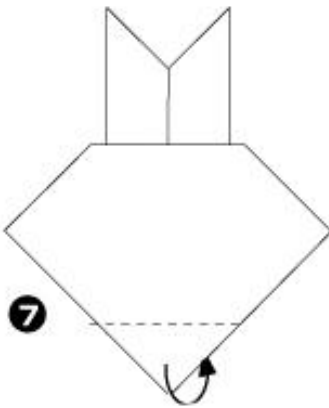
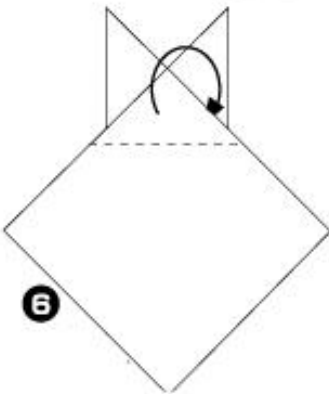
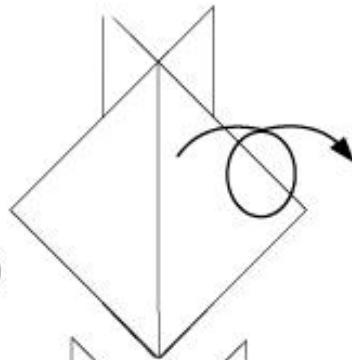
c/ la voiture grise – le joli chapeau rouge – une pomme mure – elles mangent



2



5



8

