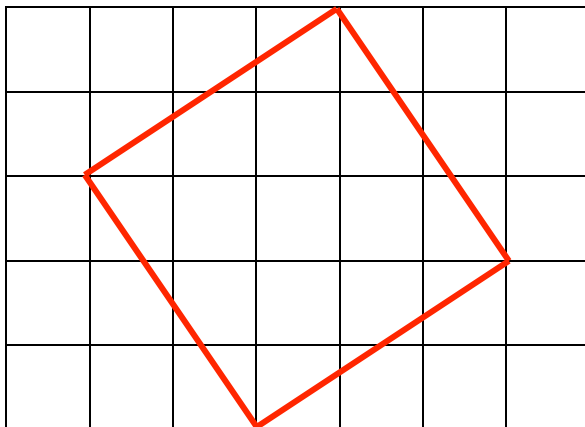


**GEOMETRIE**

**Décrire et reproduire le carré**



Le carré est un polygone.

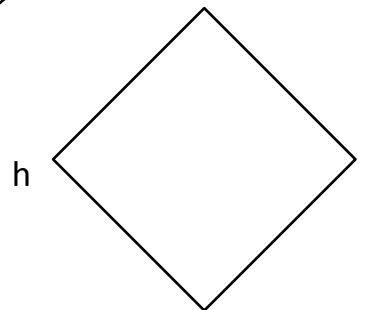
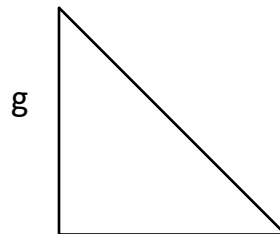
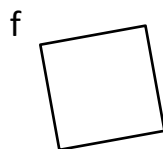

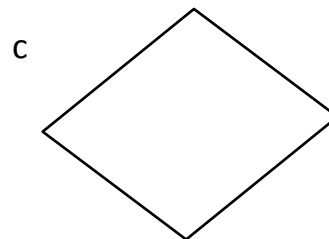
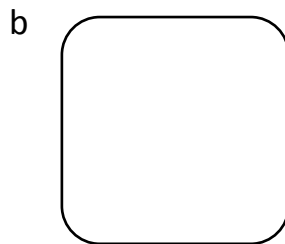
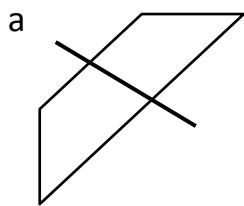
*Mais comment le reconnaître ?*

Il a 4 côtés de .....

Il a 4 .....

Et il a 4 sommets.

**1/ Entoure les carrés et barre les autres. Pour chaque figure qui n'est pas un carré explique pourquoi ce n'en est pas un !**



a/ Ce n'est pas un carré. Elle n'a pas 4 angles droits. Ses cotés ne sont pas de la même longueur.

b/ \_\_\_\_\_

c/ \_\_\_\_\_

d/ \_\_\_\_\_

e/ \_\_\_\_\_

f/ \_\_\_\_\_

g/ \_\_\_\_\_

Reconstruis la maison de la famille Carré.

