









Lire l'heure

① Quelle heure est-t-il ? Donne l'heure du matin et celle de l'après midi

			
matin : 2 H 15 après-midi : 14 H 15	matin : 6 H 00 après-midi : 18 H 00	matin : 11 H 45 après-midi : 23 H 45	matin : 4 H 30 après-midi : 16 H 30

② Place correctement les aiguilles sur chacune des pendules

			
17 H 30	10 H 00	15 H 45	8 h 30

③ Colorie de la même couleur les pendules et les radios-réveils qui donnent la même heure.

