



1 Mesure chaque ligne, puis complète.

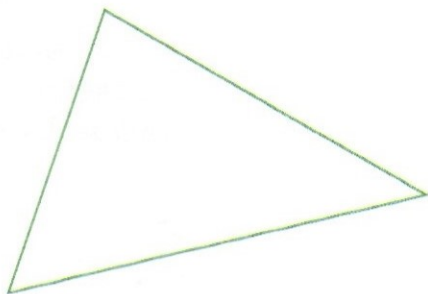


a mesure cm mm ou mm




b mesure cm mm ou mm

2 Mesure chaque côté de ce triangle, puis calcule son périmètre.



Le périmètre est cm mm.

3 Mesure chaque côté de ce rectangle, puis calcule son périmètre.



Le périmètre est cm mm.

4 Pour chaque phrase, entoure **VRAI** ou **FAUX**, puis explique ta réponse.

Pour construire une ligne de 9 cm 4 mm, on peut placer bout à bout :

a. un segment de 5 cm 1 mm et un segment de 3 cm 4 mm. **VRAI** **FAUX**

.....

b. un segment de 4 cm 7 mm et un segment de 5 cm 7 mm. **VRAI** **FAUX**

.....

