

## Travail pour le **mardi 31 mars 2020**

### De 10h à 11h : Réunion la 1<sup>ère</sup>, les cours de la maison Lumni pour les CP-CE1

	étape 1	étape2	étape 3
<b>calcul mental</b>	Ajouter ou retrancher des centaines. 252 + 200/ 568 -500 / 189+400/ 347-200 / 435 – 100/	Ecrire les réponses des 5 calculs dans les bulles sur la feuille des polygones. Si votre enfant a du mal, écrivez les calculs.	
<b>Géométrie</b> Décrire les polygones	Regarder la vidéo : <a href="https://www.youtube.com/watch?v=2AbjeSF8DDE">https://www.youtube.com/watch?v=2AbjeSF8DDE</a>	Remplir le QCM. Ne pas hésiter à revoir la vidéo.  Lire la leçon et la compléter. Pour ceux qui peuvent imprimer coller dans CR	Exercices page 3
<b>Vocabulaire</b>	Lire les mots appris depuis la semaine dernière : cloche, bonbons, décorer, pâques, chocolat, œufs, jardin, le Lapin de Pâques, manger, la fête, s’amuser, la chasse aux œufs.	Devinettes (sous ce tableau) données oralement par le parent, réponse écrite dans le cahier par l’enfant.	
<b>Lecture Picot</b> (texte page 2)	1) Votre enfant lis le texte seul 2) Vous lisez pour lui 3) demander lui ce qu’il a compris NB : Pour certains mots, il vous demandera peut-être des explications, n’hésitez pas	Faire avec lui <b>à l’oral</b> les questions qui se trouvent sous le texte page 2.	
<b>ASP maïf</b>	Se connecter au site  Vérifier (ou écrire) les messages.	<b>FRANÇAIS</b> / Grammaire : comprendre les notions passé, présent, futur. Faire tous les ex.	<b>MATHS</b> / Lire et écrire les nombres de 0 à 499 Exercices 1 à7.
<b>Lecture compréhension</b> <b>Suite</b>	Jason à la découverte de la Toison d’or. Relire le texte à voix haute.	Terminer le travail commencé vendredi. <i>Si besoin une aide en page 4 pour l’exercice 3</i>	

Devinettes	Réponse souhaitée
Quelle fête les chrétiens préparent-ils depuis le mercredi des cendres ?	1) la fête de Pâques
Elle sonne pour annoncer la messe aux chrétiens.	2) les cloches
Ils sont pondus par la poule, l’oiseau, ...	3) les œufs
Qu’est-ce qu’on mange le jour de Pâques ?	4) du chocolat
Quel personnage imaginaire cache des œufs dans le jardin ?	5) le Lapin de Pâques
Que font les enfants le matin de Pâques ?	6) la chasse aux œufs

## Un drôle de petit bonhomme

À la grande surprise de la vieille dame, le bonhomme de pain d'épices sort du four, saute par terre et part dans la rue.

**Il** crie :

— Cours, cours, aussi vite que **tu** peux ! Tu ne m'attraperas pas. Je suis le prince de pain d'épices...

Un peu plus loin, le prince de pain d'épices rencontre une vache, un cheval et des paysans.

À chaque fois, il leur dit :

— Courez, courez, aussi vite que **vous** pouvez ! Vous ne m'attraperez pas. Je suis le prince de pain d'épices...

Le prince de pain d'épices rencontre un renard et lui dit :

— Cours, cours, aussi vite que **tu** peux ! Tu ne m'attraperas pas. Je suis le prince de pain d'épices !

Alors, le rusé renard répond :

— Mais **je** ne veux pas t'attraper ! Je veux juste te faire traverser la rivière !

Le prince de pain d'épices monte sur le dos du renard. Pendant la traversée, **il** glisse sur le museau du renard et... GLOUP ! le renard avale le prince de pain d'épices.

### A FAIRE A L'ORAL

*-Quels sont les personnages ? Où était le prince de pain d'épices ? Qui rencontre-t-il ? Comment se termine l'histoire ?*

*-Pourquoi la vieille dame est-elle surprise au début de l'histoire ?*

*-L'histoire est-elle racontée au passé, au présent ou au futur ?*

*-Combien y a-t-il de phrases ?*

*-Relire le texte en jouant les personnages : le prince de pain d'épices (votre enfant) et le renard (un parent) puis on change.*

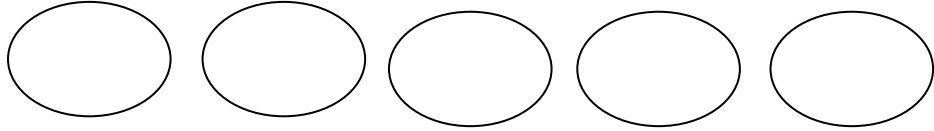
*-Dire qui ou qu'est-ce qui est remplacé par les pronoms en gras.*

# Les polygones

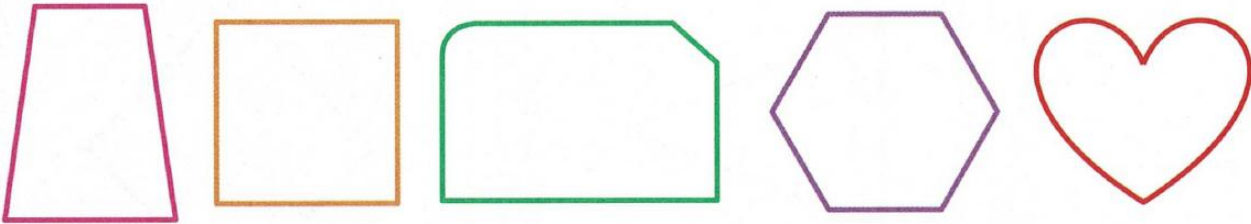
## CALCUL MENTAL

Faire ajouter ou retrancher des centaines.

Ex. :  $252 + 200$ ,  $568 - 500$ .

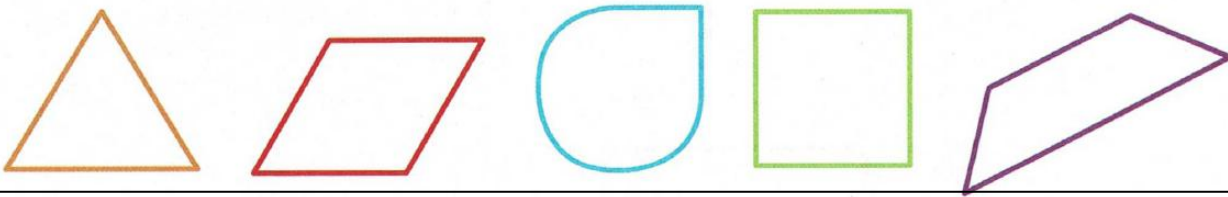


1) **Colorie** les polygones.



2) **Colorie** la figure décrite.

*Je suis un polygone. J'ai 4 sommets et 4 côtés. Je n'ai pas d'angle droit. Mes côtés ont tous la même longueur.*



3) **Écris** le nombre de sommets et de côtés de chaque polygone.

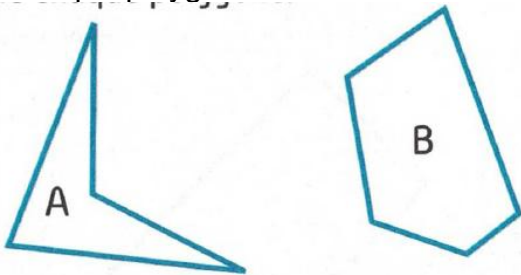


	figure A	figure B
sommets		
côtés		

4) **Décris** ce polygone



- ☞ Il a .....sommets.
- ☞ Il a.....côtés.
- ☞ Il a.....angles droits.
- ☞ Mesure les côtés de ce polygone. Que remarques-tu ? .....
- .....

5) Lali a économisé de l'argent pour s'acheter un train électrique. **A-t-elle assez d'argent ? Si oui, justifie ta réponse.**



Réponse :

.....

### Aide pour l'exercice 3 de Jason

Si votre enfant a des difficultés pour retrouver la chronologie. Découper ces bandes à manipuler.

Un homme a volé le trône du père de Jason.

Embarqués sur l'Argo, les cinquante Argonautes partent à l'aventure.

Jason doit s'emparer de la Toison d'or pour devenir roi à nouveau.

Pour réussir cet exploit il a besoin d'un bateau et d'une équipe.

Le navire suit la colombe et parvient à s'arracher du piège.

Incroyable ! Des roches se déplacent sur l'eau et foncent droit sur le navire.

Les Argonautes lâchent une colombe et les rochers s'écartent..