

5 Complète le tableau en suivant la flèche.

	eu	œu
b
s
t	
n

- du beurre
- la sœur
- le seul
- le facteur
- neuf
- un nœud
- un bœuf

6 Complète les mots.



leur – sœur

Le cha..... a un fusil.



meu – jeu


heu – peu

Lenier estreux.

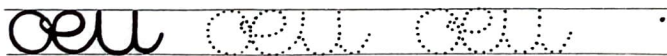
7

écriture

Allonge la petite boucle du o pour commencer le e.



Quand on écrit o e liés, le e descend en touchant le o.



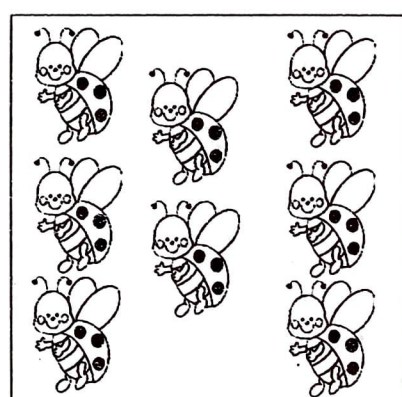





Trace bien la boucle du b, puis celle du e. Pense à la petite boucle des r.

le beurre .


Fais bien toucher le o et le e.

un œuf .


1 Entoure les animaux par groupes de 2. Ecris leur nombre et indique si c'est un nombre pair ou impair




2 Dessine les billes en bleu quand le nombre est pair.
Dessine les billes en rouge quand le nombre est impair.




3



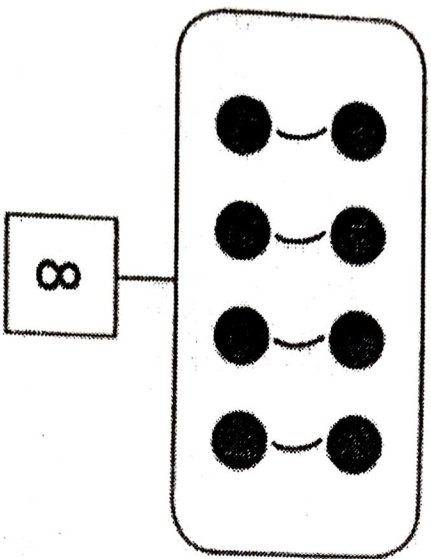
8



12

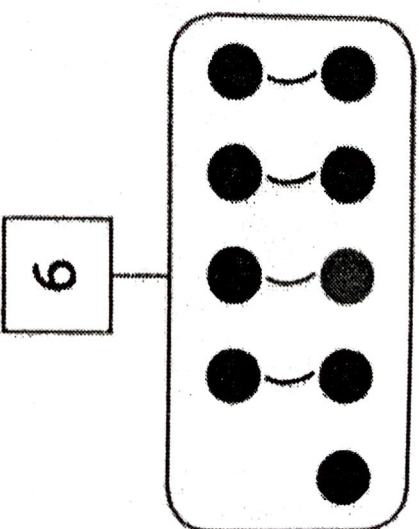


5



On peut ranger les billes par paires (2 par 2).

Donc 8 est un nombre pair.

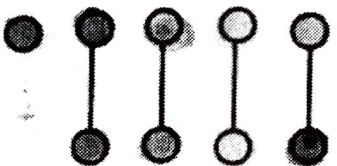
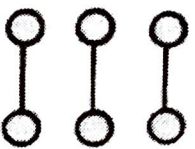


On ne peut pas ranger toutes les billes par paires: il en reste une toute seule.

Donc 9 est un nombre impair.

2

J'observe l'exemple, je continue.



6

pair



9

13

16

3

Pair ou impair ?



4

Pair :

Impair :

20

21

22

23

24

25

26

27

28

29

30

31

32

33

34

35

36

37

38

Les nombres pairs se terminent par _____

Les nombres impairs se terminent par _____

5

pair
impair

56

31

49

24

18

69

72

86

99

100