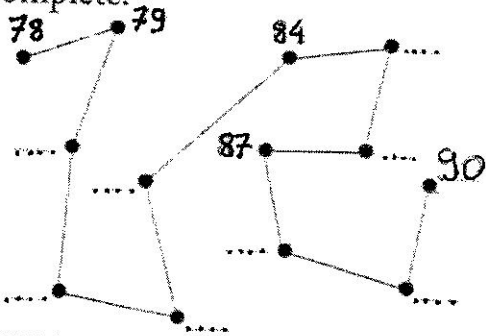



① Complète.



② Trouve le nombre juste avant et juste après.

80	83	85	90	91
79	88	89	81	


③ Groupe les objets par 10 et écris les résultats dans les cases :



④ Complète :

81	8 dizaines 1 unité
86	... dizaines ... unités
80	... dizaine ... unités
..	8 dizaines 3 unités
89	... dizaines ... unités
..	7 dizaines 9 unités

⑤ Observe et complète :



d	u
.	.

⑥ Dessine les dizaines et les unités :

d	u
8	1

⑦ Écris les nombres en chiffres, puis en lettres :

quatre-vingt-quatre . . . 85 \_\_\_\_\_  
 quatre-vingt-sept . . . 82 \_\_\_\_\_  
 quatre-vingt-six . . . 80 \_\_\_\_\_