


Se repérer dans l'espace

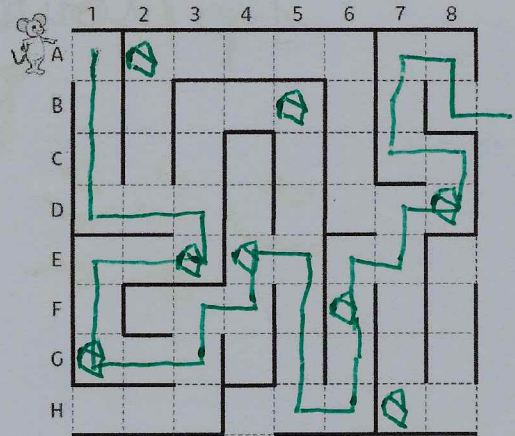
Se repérer sur un quadrillage

1. Place des morceaux de fromage  dans les cases suivantes :

A2 – B5 – E3 – F6 – H7 – G1 – D8 – E4

2. Donne le codage des cases où se trouvent les sorties :

H1 - H4 - H8 - E8 - B8



Se déplacer sur un quadrillage

3. Trace le trajet suivi par le rat d'après ces indications :



Combien de morceaux de fromage a-t-il mangé ? **5**

Se repérer sur un plan



4. Coche la bonne réponse.

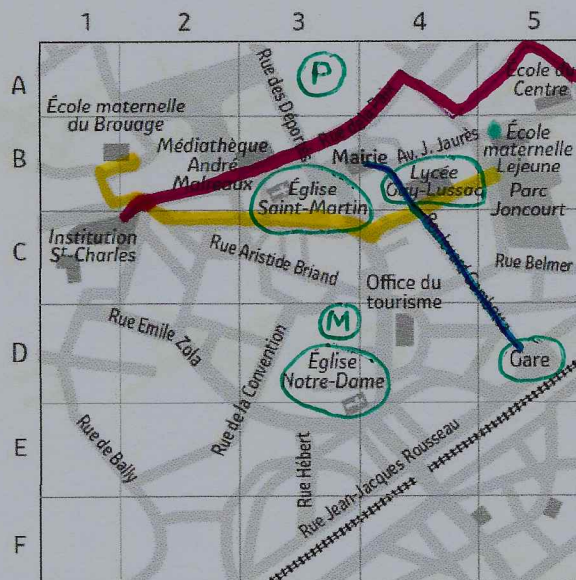
La ville de Chauny (Aisne) dispose :

- d'une gare vrai faux
- d'un musée vrai faux
- de plusieurs églises vrai faux
- d'un lycée vrai faux
- d'un hôpital vrai faux

Colorie sur le plan les éléments que tu as repérés.

5. Place sur le plan les symboles suivants :

-  pour le marché en D3.
-  pour le Parc des Promenades en A3.



Se déplacer avec un plan

6. Trace les trajets les plus directs possibles

En rouge	En bleu	En jaune
Les élèves de l'école du Centre se rendent à l'Institution Saint-Charles.	Une personne arrive à la gare et se rend à la Mairie.	Les élèves de l'école maternelle du Brouage vont jouer au Parc Joncourt.

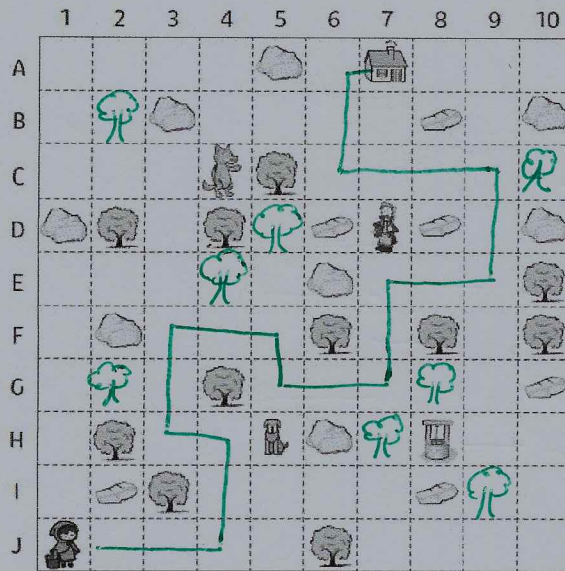
Se repérer dans l'espace

Se repérer sur un quadrillage

1. Place des arbres dans les cases :
G2 - C10 - G8 - D5 - H7 - B2 - I9 - E4

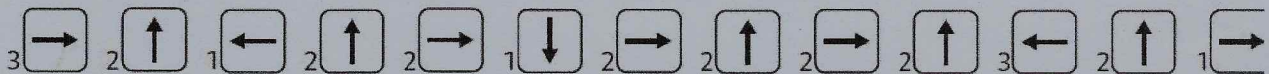
2. Dans quelle case se trouve :

- le Petit Chaperon Rouge : **J1**.....
- le Grand Méchant Loup : **C4**.....
- le chasseur : **D7**.....
- la maison de Mère-Grand : **A7**.....
- le chien : **H5**.....
- le puits : **H8**.....



Se déplacer sur un quadrillage

3. Trace le trajet suivi par le Petit Chaperon Rouge d'après ces indications :



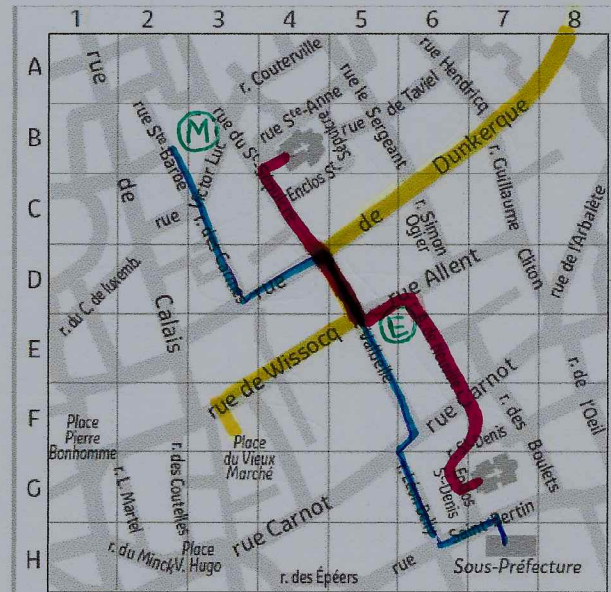
Se repérer sur un plan

4. Réponds aux questions d'après le plan de Saint-Ouen (Pas-de-Calais).

- Dans quelle rue se situe la sous-préfecture ?
rue Saint-Bertin
- Quel bâtiment trouve-t-on rue Saint-Anne ?
une église

5. Place sur le plan les symboles suivants :

- (M) pour la mairie à l'angle de la Rue Victor Luc et de la Rue du Saint Sépulcre.
- (E) pour l'école des Beaux Arts à l'angle de la Rue Alphonse de Neuville et de la Rue Allent.



Se déplacer avec un plan

6. Trace les trajets les plus directs possibles.

En rouge	En bleu	En jaune
Les élèves de l'école des Beaux-Arts vont voir les vitraux des deux églises.	Marc qui habite rue Sainte Barbe se rend à la sous-préfecture.	Partir de la place du vieux marché, passer la rue de Wissocq, tourner rue de Valbelle, prendre la rue de Dunkerque et quitter la ville.