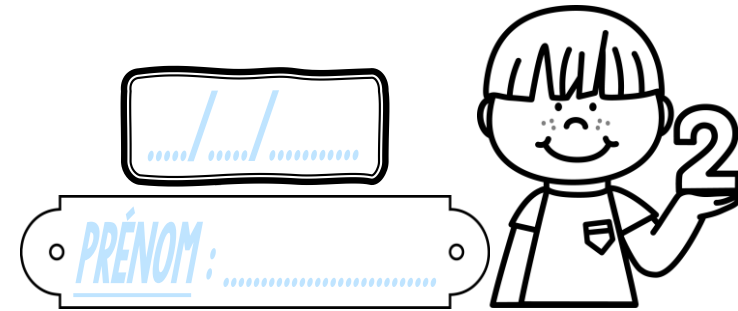


Calcul

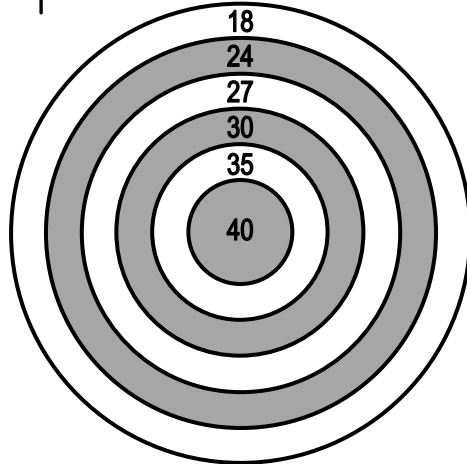
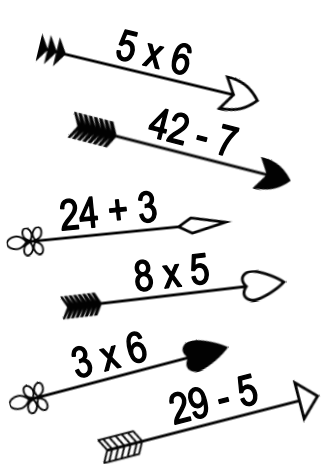
CE2



① Pose et effectue ces opérations.

$647 + 395$	$2\ 241 + 953$	$462 - 128$	$9\ 307 - 842$	34×6	57×9	436×7

② Prolonge les flèches pour les planter dans la bonne réponse.



③ Résous ce problème.

Depuis qu'elle a commencé le tennis, Sophie a participé à 213 entraînements. Hugo, lui, n'a participé qu'à 47 entraînements.

À combien de séances de plus Sophie a-t-elle participé ?

