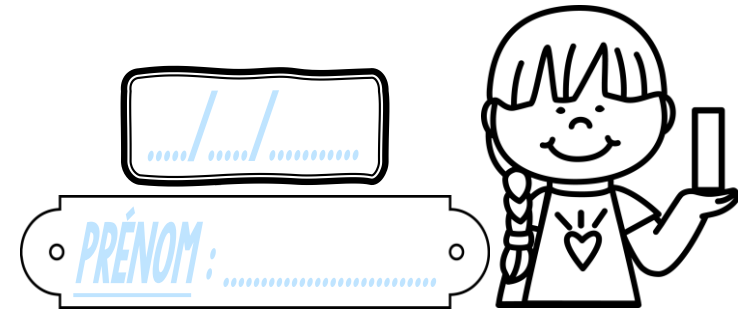


# Calcul

CE2




① Pose et effectue ces opérations.

$462 + 273$	$583 + 309$	$657 - 234$	$8\ 426 - 271$	$45 \times 3$	$62 \times 8$	$709 \times 4$

② Colorie selon le code-couleur !


	12	Jaune
	16	Bleu foncé
	25	Orange
	32	Rose
	40	Violet
	49	Vert clair
	54	Bleu clair
	72	Vert foncé



③ Résous ce problème.

Un cinéma compte 328 places assises. Après son agrandissement, il y aura 125 places de plus.

Combien y aura-t-il de sièges en tout ?




<https://laclassebleue.fr/>