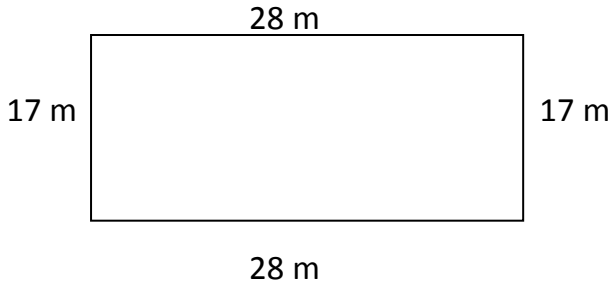


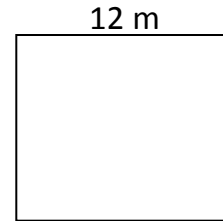
Le périmètre : identification et calcul

1 Encadrer la formule qui permet de calculer le périmètre de ces polygones puis calculer le périmètre :



- 17×28
 $(17 + 28) + 2$
 $(17 + 28) \times 2$

P = m




- $12 + 12$
 12×4
 12×12

P = m

2 Je veux faire le tour d'un champ qui a la forme d'un triangle équilatéral de 4 m de côté.

Quelle distance je vais parcourir ?

.....



3 Julien a réalisé deux dessins sur deux feuilles rectangulaires de 14 cm sur 8 cm.

Il veut les encadrer. Aura-t-il assez avec une baguette de 80 cm de long ?

.....

