






<b>1</b>	Une directrice d'école commande 14 boîtes de 10 stylos. <i>Combien de stylos doit-elle recevoir ?</i>
	


<b>2</b>	Dans la piscine, il y a 26 enfants. 19 enfants sont des filles. <i>Combien y a-t-il de garçons ?</i>
	


<b>3</b>	Claire achète 6 paquets de 5 bonbons. <i>Combien de bonbons achète-t-elle ?</i>
	


<b>4</b>	Mme Chadli achète 2 paquets de 4 yaourts. Chaque yaourt pèse 100 g. <i>Combien pèsent ses yaourts en tout ?</i>
	

3 étoiles : Une si l'opération ou le dessin sont adaptés, une si le résultat est juste, une si la phrase réponse est bien formulée  
+ 1 cœur –bonus si l'orthographe est correcte.

<b>1</b>	Au cross de la ville, il y a 20 adultes et 16 groupes de 10 enfants. <i>Combien d'enfants y a-t-il ?</i>
	

<b>2</b>	Dans l'album-photos de Sophie, il y a 42 places pour coller des photos. Elle colle 4 photos. <i>Combien de photos peut-elle encore coller dans son album ?</i>
	

<b>3</b>	Kevin achète un livre à 6€ et un compas à 7€. Il paie avec un billet de 10€ et un billet de 5€. <i>Combien d'argent le libraire va-t-il lui rendre ?</i>
	

<b>4</b>	Un pâtissier a fabriqué 63 brioches. Pour les vendre, il les met en paquets de 10 brioches. <i>Combien de paquets de 10 brioches peut-ils remplir ?</i>
	

3 étoiles : Une si l'opération ou le dessin sont adaptés, une si le résultat est juste, une si la phrase réponse est bien formulée  
+ 1 cœur –bonus si l'orthographe est correcte.