
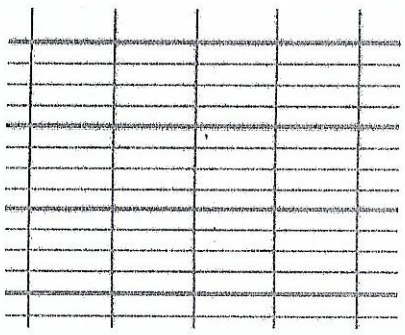


5



1) Pose et calcule l'addition et la soustraction (Attention à la présentation).

489 + 398 = .....

678 - 153 = .....



2) Colorie les dessins en symétrie





6

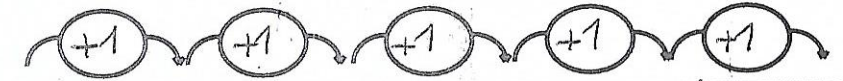
1) Pose et calcule les additions (Attention à la présentation).

257 + 499 = .....

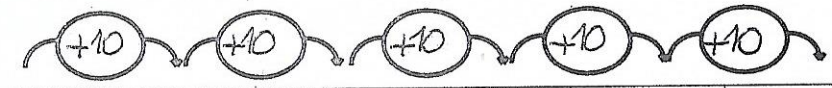
670 + 45 = .....



2) Complète en ajoutant à chaque fois le nombre indiqué.



384				
-----	--	--	--	--



717				
-----	--	--	--	--

3) Problème

Alex a construit 3 tours avec des cubes. Il a pris 5 cubes pour chaque tour. Combien de cubes a-t-il pris en tout ?

Entoure la question en rouge et les données utiles en bleu.

- Dessine (si besoin) :



- Choisis et écris la bonne opération :



- Rédige ta réponse en reprenant les mots de la question.

