

9

1) Complète en ajoutant à chaque fois le nombre indiqué.





847					
-----	--	--	--	--	--

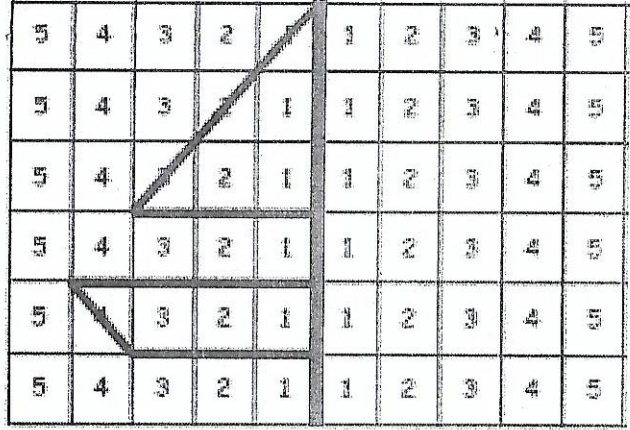


247					
-----	--	--	--	--	--

2) Colorie les dessins en symétrie



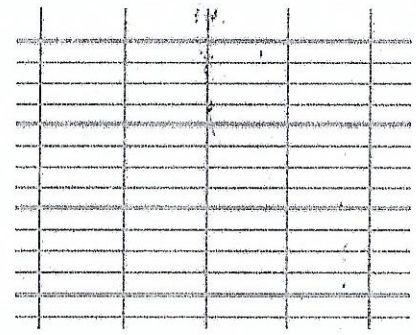
3) Trace le dessin en symétrie



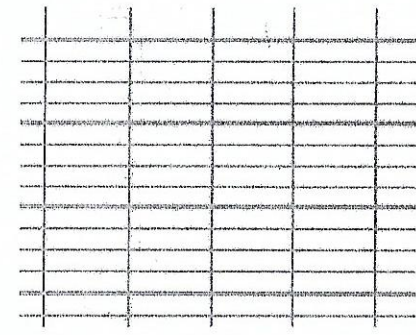
10

1) Pose et calcule les additions (Attention à la présentation).


569 + 290 = .....



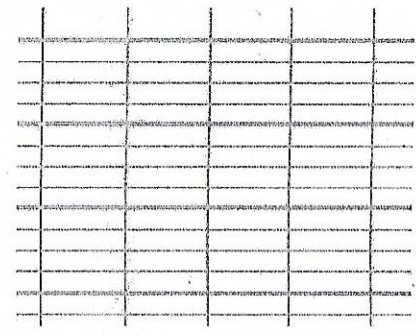
199 + 408 = .....



957 - 404 = .....



579 - 52 = .....



2) Problème

Alex a construit 4 tours avec des cubes. Il a pris 6 cubes pour chaque tour. Combien de cubes a-t-il pris en tout ?

Entoure la question en rouge et les données utiles en bleu.

- Dessine (si besoin) :



- Choisis et écris la bonne opération :



- Rédige ta réponse en reprenant les mots de la question.

