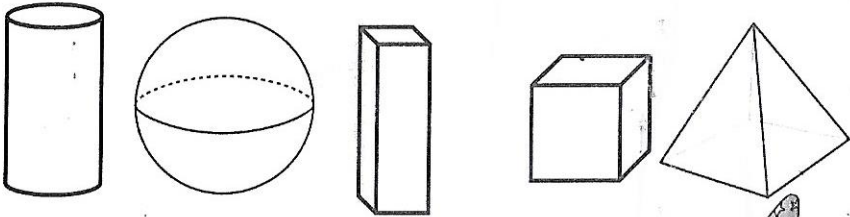


# Géométrie

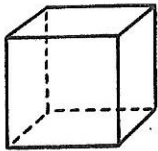
Fiche 4

## Les solides


1 Je barre les solides qui ne roulent pas.



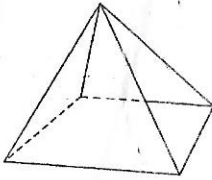
2 Je compte le nombre de faces de chaque solide.



\_\_\_\_\_ faces



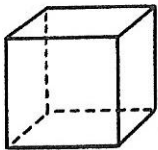
\_\_\_\_\_ faces




\_\_\_\_\_ faces



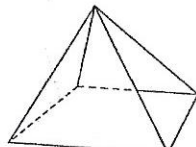
3 Je marque les sommets en bleu et je compte leur nombre pour chaque solide.



\_\_\_\_\_ sommets



\_\_\_\_\_ sommets



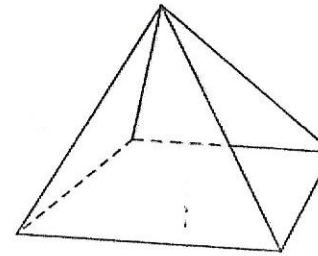
\_\_\_\_\_ sommets

# Géométrie

Fiche 12

## Les solides : la pyramide

1 Je compte le nombre de sommets, de faces. Je complète la définition.



Nombre de faces : \_\_\_\_\_

Nombre de sommets : \_\_\_\_\_

Nombre d'arêtes : \_\_\_\_\_



Une pyramide a \_\_\_\_\_ faces, \_\_\_\_\_ sommets et \_\_\_\_\_ arêtes.

Toutes ses faces sont des \_\_\_\_\_ et sa base est un \_\_\_\_\_.

2 J'entoure toutes les pyramides.

