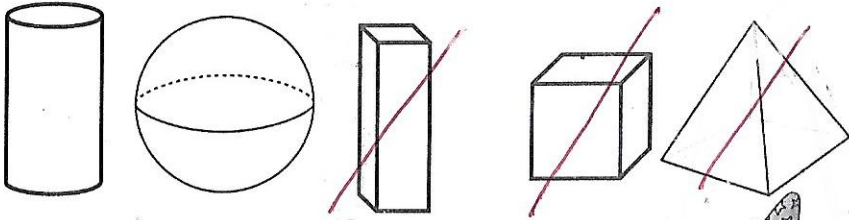
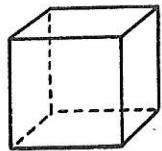



1 Je barre les solides qui ne roulent pas.



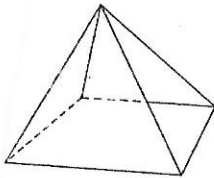
2 Je compte le nombre de faces de chaque solide



6 faces

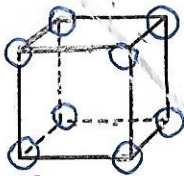


6 faces

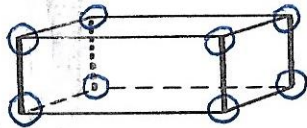


5 faces

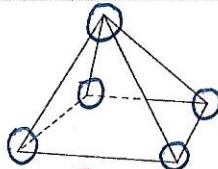
3 Je marque les sommets en bleu et je compte leur nombre pour chaque solide.



8 sommets

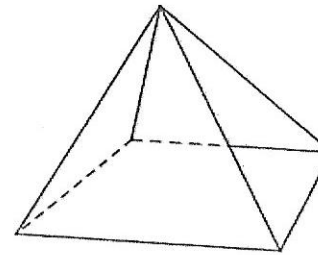


8 sommets



5 sommets

1 Je compte le nombre de sommets, de faces. Je complète la définition.



Nombre de faces : 5

Nombre de sommets : 5

Nombre d'arêtes : 8

Une pyramide a 5 faces, 5 sommets et 8 arêtes.

Ses faces sont des triangles et sa base est un carré

2 J'entoure toutes les pyramides.

