


Géométrie

Fiche 9

Les solides : le pave

1 Je compte le nombre de sommets, de faces. Je complète la définition.




Nombre de faces : _____

Nombre de sommets : _____


Nombre d'arêtes : _____

Un pavé a _____ faces, _____ sommets et _____ arêtes.

Toutes ses faces sont des _____.



2 J'entoure tous les pavés.

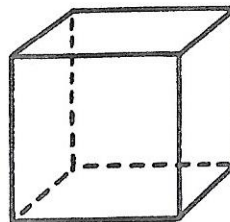


Géométrie

Fiche 6

Les solides : le cube

1 Je compte le nombre de sommets, de faces. Je complète la définition.




Nombre de faces : _____

Nombre de sommets : _____

Nombre d'arêtes : _____

Un cube a _____ faces, _____ sommets et _____ arêtes.

Toutes ses faces sont des _____.



2 J'entoure tous les cubes.

