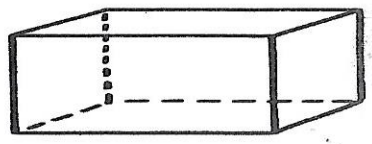


Les solides : le pave

1 Je compte le nombre de sommets, de faces. Je complète la définition.




Nombre de faces : 6
 Nombre de sommets : 8
 Nombre d'arêtes : 12

Un pavé a 6 faces, 8 sommets et 12 arêtes.

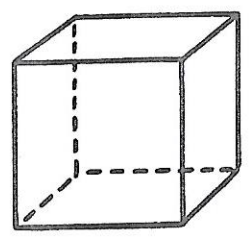
Toutes ses faces sont des rectangles.

2 J'entoure tous les pavés.



Les solides : le cube

1 Je compte le nombre de sommets, de faces. Je complète la définition.



Nombre de faces : 6
 Nombre de sommets : 8
 Nombre d'arêtes : 12

Un cube a 6 faces, 8 sommets et 12 arêtes.

Toutes ses faces sont des carres.

2 J'entoure tous les cubes.

