


Mes p'tits problèmes hebdomadaires

CE1 - fiche n° 9


- 1 Mario a 18 images dans ses poches. 12 images sont dans sa poche de droite. Les autres sont dans la poche de gauche.
Combien d'images sont dans la poche de gauche ?



$$18 - 12 = 6$$

Il y a 6 images à gauche.

- 2 Dans une petite école, 19 enfants vont manger à la cantine. On a déjà mis 6 assiettes. Combien d'assiettes faut-il mettre encore ?



$$19 - 6 = 13$$

Il faut mettre 13 assiettes.

- 3 Monsieur Mewen achète un cartable à 24 €, un livre à 10 € et un classeur à 5 €. Combien coûtent ses achats ?



$$24 + 10 + 5 = 34 + 5 = 39$$

Les achats coûtent 39 €.

- 4 A la ferme d'Éléonore il y a 10 poules et 48 poussins. Un matin, 9 autres poussins naissent. Combien de poussins y a-t-il maintenant ?

$$48 + 9 = 57$$

Il y a 57 poussins maintenant.


3 étoiles : Une si l'opération ou le dessin sont adaptés, une si le résultat est juste, une si la phrase réponse est bien formulée
+ 1 cœur - bonus si l'orthographe est correcte.

/16

Mes p'tits problèmes hebdomadaires

CE1 - fiche n° 10

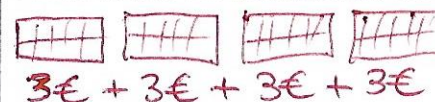
- 1 Carole a 9 cartes postales mais elle n'a que 3 timbres. Combien lui manque-t-il de timbres ?



$$9 - 3 = 6$$

Il lui manque 6 timbres.

- 2 Une tablette de chocolat coûte 3 €. Madame Guichard achète 4 tablettes. Combien doit-elle payer ?



$$4 \times 3 = 12$$

Elle doit payer 12 €.

- 3 Dans un parking, il y a 6 rangées de 10 places. Combien y a-t-il de places dans ce parking ?



$$6 \times 10 = 60$$

Il y a 60 places.

- 4 Dans sa tirelire, Micky n'a que des pièces de 2 €. En tout il a 8 €. Combien a-t-il de pièces de 2 € ?



Il a 4 pièces de 2 €.

3 étoiles : Une si l'opération ou le dessin sont adaptés, une si le résultat est juste, une si la phrase réponse est bien formulée
+ 1 cœur - bonus si l'orthographe est correcte.

/16