

1 Additionne les billets et écris le nombre d'euros.



$$\square + \square = \square$$

..... €



$$\square + \square = \square$$

..... €




$$\square + \square = \square$$

..... €


2 Entoure les groupes qui contiennent exactement 50 €.




3 Dessine la somme demandée.



23 €



57 €



65 €

4

Indique la somme dessinée :

