

Compétences Lire les heures du matin et celles du soir.
Calcul mental Table de multiplication par 2. Dire : « 3 × 2 » ; l'élève écrit 6.
Prérequis oral Une montre indique 16:30. Est-ce le matin ou l'après-midi ?
Réinvestissement Retrancher des dizaines entières.
Différenciation Consolidation : Photofiche 63 C.

Découvrons

1 Observe et complète.




Demain, je prends le train à 7 h du soir.



Est-ce le train de 19 h ?


matin



..... h

+ 12 h

soir




..... h

Pour passer de l'heure du matin à l'heure du soir, on ajoute heures.


Je m'entraîne

2 Écris l'heure du matin et celle du soir.




matin
..... h

soir
..... h



matin
..... h

soir
..... h



matin
..... h

soir
..... h

3 PROBLÈME



C'est samedi soir.



Films	Horaires
① Fantômes !	16 h 00
② Les Choupinettes	18 h 00
③ La Fée Zorzine	21 h 00

Quelle heure est-il ? Il est

Quel film Mélissa peut-elle encore voir ce soir ? Elle peut voir le film numéro

4 Complète.

50 - 10 =

60 - 20 =

46 - 30 =

40 - 30 =

54 - 10 =

67 - 20 =