

Tracer un carré ou un rectangle sur papier uni

Compétences


Tracer un rectangle et un carré sur papier uni.

Calcul mental

Complément à un nombre < 20 .
Dire : « Combien faut-il ajouter à 8 pour obtenir 12 ? » ; l'élève écrit 4.

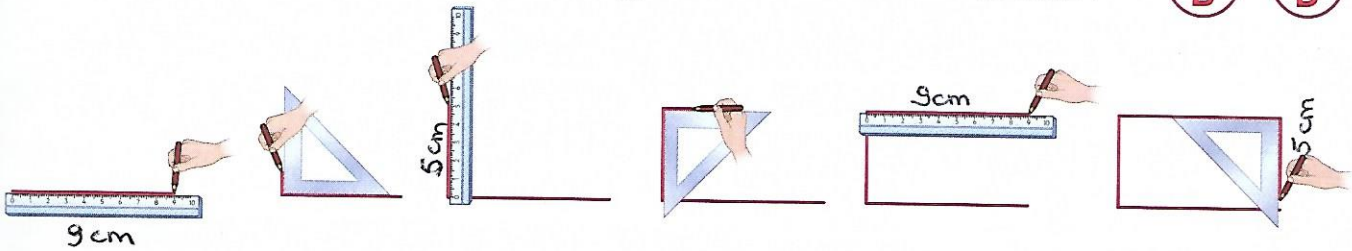
Différenciation

Consolidation : Photofiche 77 C.



Découvrons

1 Observe comment Théo trace un rectangle de 5 cm et de 9 cm de côté :




À ton tour **trace** ce rectangle.

Un rectangle possède 4 angles droits et des côtés opposés de même longueur.



Je m'entraîne

2 Trace un rectangle.
Deux côtés sont déjà tracés.



3 Trace 2 carrés de 3 cm de côté.

Un carré possède 4 angles droits et 4 côtés de même longueur.

