

## CE2

### Travail pour le lundi 27 avril 2020

Bonjour, voici le travail pour ce lundi.

Il n'est pas nécessaire d'imprimer ce document.

Je vous transmets également le corrigé des exercices dans un autre document. Merci de bien vouloir le consulter lorsque les exercices sont terminés.

#### Français / Vocabulaire :

#### VOC 11                      Le sens d'après le contexte                      (suite)

Relire la leçon.

#### VOC 11                      Le sens d'après le contexte

- Certains mots peuvent avoir des sens différents selon le contexte dans lequel ils sont employés.

Ex : Je bois dans un verre en plastique.  
Il y a des bouts de verre par terre.

- Le sens général d'un texte ou d'une phrase permet de mieux comprendre le sens d'un mot.


Exercices :

**4** \* Retrouve les deux sens des mots en gras. Pour cela, transforme chaque phrase en utilisant un mot de la liste.

*galerie souterraine ♦ passage ♦ pointe ♦ encolure*

- a. Il aime porter ses chemises avec le **col** ouvert.
- b. Franchir ce **col** en hiver est difficile.
- c. La **mine** de son crayon s'est cassée.
- d. Le travail dans la **mine** est dangereux.

**6 \*\* Trouve deux sens différents pour chaque mot représenté. Emploie chacun d'eux dans une phrase.**



**7 \*\* Écris deux phrases en utilisant le mot *chaîne* dans deux sens différents.**

**8 \*\* Écris le sens qui correspond à chacun des mots en gras dans ces phrases.**

A) Ce **goujat** s'est très mal comporté à votre égard.

- a. Petit poisson des rivières.
- b. Personne grossière.
- c. Fromage à pâte cuite.

B) L'athlète a remporté le **pentathlon**.

- a. Exercice de mathématiques.
- b. Vêtement qui couvre les jambes.
- c. Compétition sportive qui comprend cinq épreuves.

C) Le castor vit dans une **hutte** qu'il a fabriquée.

- a. Partie intérieur de la main.
- b. Habitation faite de branches et de terre.
- c. Fenêtre ronde sur les bateaux.


Réponses : voir corrigé

## Mathématiques / Géométrie :

### Géom 11 : Tracer un cercle avec un compas (nouvelle leçon)

Exercice de recherche :

#### Cherchons

 Au musée, la statue de la Belle des bois est protégée par une zone de sécurité infranchissable. On ne peut pas l'approcher à moins de 3 mètres.

- Pour représenter les 3 mètres de sécurité à ne pas franchir, place de nombreux points situés à 3 centimètres du point C, tout autour de ce point.
- Quelle forme se dessine autour du point C ? Avec quel instrument peux-tu tracer cette forme ?

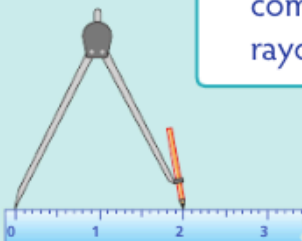
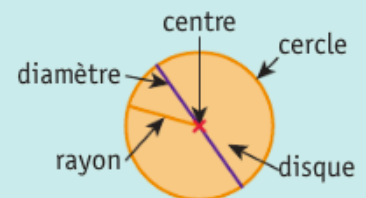


Réponses : voir corrigé

Leçon :  
Lire la leçon.

#### Je retiens

- **Un cercle est formé par tous les points situés à la même distance de son centre.** Cette **distance** s'appelle le **rayon du cercle**.  
Toute la **surface** située à l'intérieur du cercle s'appelle le **disque**.
- Pour **construire un cercle** :



❶ Fixe l'écartement de ton compas pour obtenir le rayon du cercle.



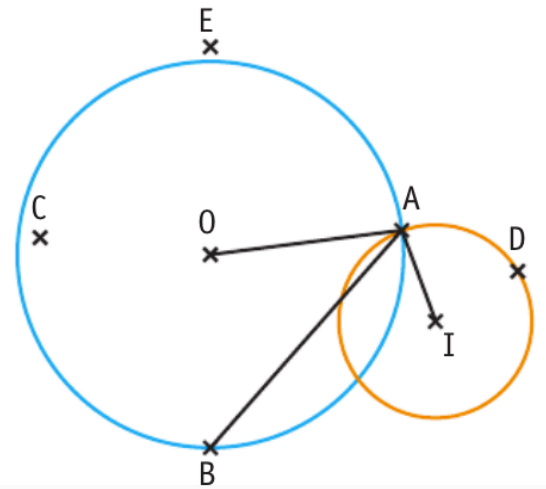
❷ Marque le centre du cercle. Place la pointe du compas sur ce point. Fais tourner la mine du compas sans changer l'écartement.

Exercices :

### Observer un cercle, son centre et son rayon

#### 1 \* Vrai ou faux ?

- a.  $[AB]$  est le rayon du cercle de centre  $O$ .
- b.  $C$  est sur le cercle de centre  $O$ .
- c.  $C$  est sur le disque de centre  $O$ .
- d.  $A$  est un point des deux cercles.
- e.  $D$  est sur le cercle de centre  $O$ .



#### 2 \* À l'aide de ton compas, trace :

- a. un cercle de centre  $O$  et de 7 cm de rayon ;
- b. un cercle de centre  $S$  et de 4 cm de rayon ;
- c. un cercle de centre  $Z$  et de 12 cm de diamètre.

Réponses : voir corrigé

#### Français / Lecture compréhension :

Lire le document « Madagascar » sur la page suivante et répondre aux questions.



# Madagascar

Située au sud de l'équateur, dans l'océan Indien, Madagascar est la cinquième île du monde en superficie (592 040 km<sup>2</sup>, elle est un peu plus grande que la France). Elle fait partie de l'Afrique.



Madagascar compte environ 22 millions d'habitants : les Malgaches. Les langues officielles sont le malgache et le français. La capitale est Antananarivo.

Le drapeau malgache



Le ravinala (l'arbre du voyageur) et le baobab.

Le baobab et le ravinala sont les arbres les plus célèbres. On appelle le ravinala, l'arbre du voyageur.



La faune de Madagascar est très riche en animaux extraordinaires, comme par exemple les lémuriens (qui sont en voie de disparition car les forêts sont brûlées et détruites).

Un micocèbe, le plus petit lémurien du monde. Il mesure 10 cm sans la queue et pèse 30 grammes.

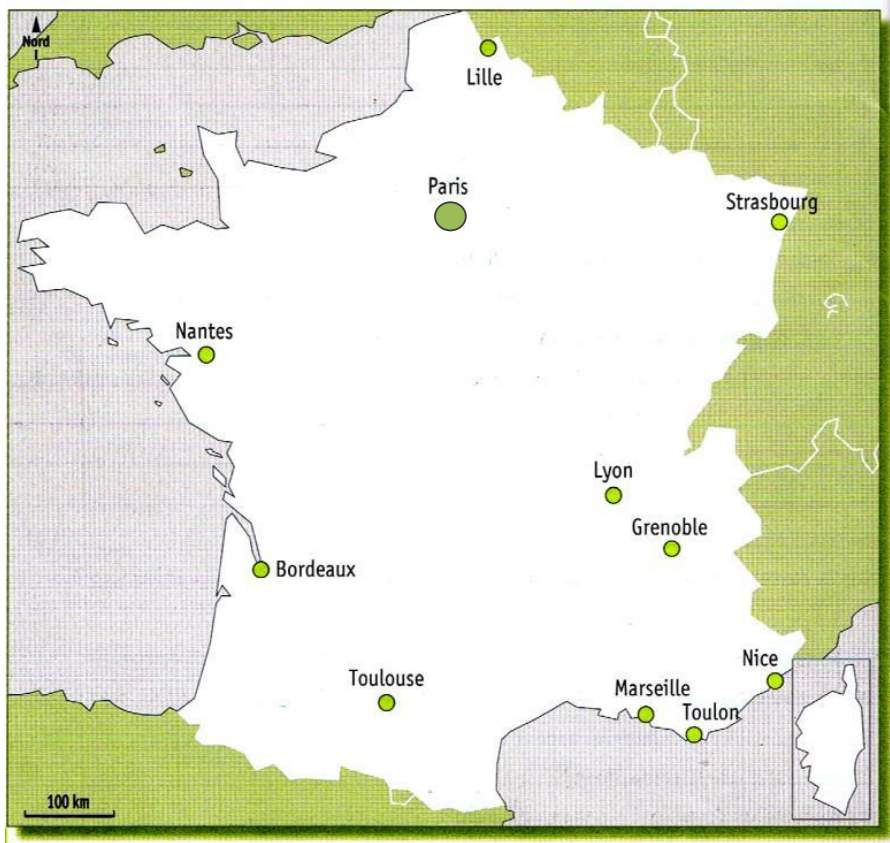


Le riz est l'aliment de base de la cuisine malgache.

1. Quels sont les deux arbres les plus connus à Madagascar ?
2. Comment s'appelle le plus petit lémurien ?
3. Pourquoi les lémuriens risquent-ils de disparaître ?
4. Quelles sont les couleurs du drapeau malgache ?
5. Quelles langues sont parlées à Madagascar ?



## Les grandes villes



Trois Français sur quatre sont des citadins : ils vivent en ville\*.

Paris, la capitale de la France compte plus de 2 millions d'habitants.

Les plus petites ne comptent que 2000 habitants.

Entre les deux il existe des villes de toutes les tailles.

### 2 Observe le tableau et réponds :

- 1 Quelle est la plus grande ville de France ?  
○ \_\_\_\_\_
- 2 Combien d'habitants compte-t-elle ?  
○ \_\_\_\_\_
- 3 Quelle est la 2<sup>ème</sup> plus grande ville de France ?  
○ \_\_\_\_\_

### 3 Observe la carte et réponds

- 1 Quelles grandes villes sont au bord de la mer ?  
\_\_\_\_\_  
\_\_\_\_\_
- 2 Quelle grande ville se trouve :  
○ Au Nord de la France : \_\_\_\_\_  
○ A l'Est de la France : \_\_\_\_\_

Agglomération	Habitants
Bordeaux	239 157
Grenoble	155 637
Lille	227 560
Lyon	484 344
Marseille	850 726
Nantes	284 970
Nice	343 304
Paris	2 243 833
Toulouse	441 802
Strasbourg	271 782



# G2

# Les espaces français

## Leçon

### Je retiens

#### La France

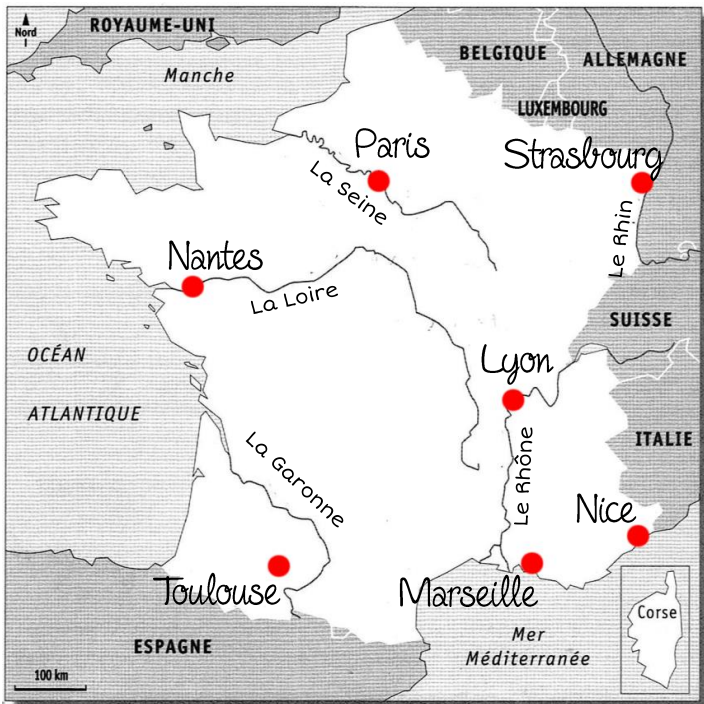
- La France est l'un des plus grands pays du continent européen. Sa superficie\* est de 550 000 km<sup>2</sup>. Elle se trouve à l'Est de l'Europe. Sa forme ressemble à un hexagone\*.
- Elle est bordée par l'Océan Atlantique, la Manche et la Mer Méditerranée.
- 5 fleuves coulent en France : Le Rhône, le Rhin, la Garonne, la Loire et la Seine.

#### Les grandes villes

- Trois français sur quatre sont citadins, c'est-à-dire qu'ils habitent en ville\*.
- Paris, la capitale, compte plus de 2 millions d'habitants.
- Marseille, Lyon, Toulouse, Nice, Nantes et Strasbourg sont les 6 plus grandes villes après Paris.

### Ce que je dois savoir faire

- \* Situer sur la carte de France :
  - 1) Les 5 fleuves
  - 2) Les mers et océans qui la bordent
  - 3) Les 7 plus grandes villes
- \* Ecrire tous ces noms sans erreur !



### Lexique

- Hexagone** : Forme géométrique à 6 côtés
- Superficie** : Surface d'un pays, d'un continent
- Ville** : Ensemble de bâtiments qui a plus de 2000 habitants.