

CE2 - Corrigé

Lundi 27 avril 2020

Voici le corrigé des exercices.

Merci de bien vouloir le consulter lorsque les exercices sont terminés.

Français / Vocabulaire :

VOC 11

Le sens d'après le contexte

(suite)

Exercices :

4 *

- a. Il aime porter ses chemises avec l'**encolure** ouverte.
- b. Franchir ce **passage** en hiver est difficile.
- c. La **pointe** de son crayon s'est cassée.
- d. Le travail dans la **galerie souterraine** est dangereux.

6 **

Exemples de phrases :

- a. 1. Timothée a porté un sac très lourd ; il a eu mal au **dos** toute la nuit.
2. Au **dos** du livre, on trouve son titre et son auteur.
- b. 1. Le **palais** du Taj Mahal est célèbre dans le monde entier.
2. Lorsque tu prononces un /, ta langue se colle au **palais**.
- c. 1. Les numismates sont des collectionneurs de **pièces**.
2. Pour réparer les trous des pantalons, les **pièces** à coudre sont très efficaces.
- d. 1. J'adore la **glace** au caramel.
2. Après mon bain, la **glace** est pleine de buée.

7 **

Exemples de phrases :

Une lourde **chaîne** maintient le portail fermé.
La **chaîne** de montagnes est visible par beau temps.

8 **

- A) Ce **goujat** s'est mal comporté à votre égard. →
b. personne grossière
- B) L'athlète a remporté le **pentathlon**. → c. épreuve sportive qui comprend cinq exercices.
- C) Le castor vit dans une **hutte** qu'il a fabriquée. →
b. Habitation faite de branches et de terre.

Mathématiques / Géométrie :

Géom 11 : Tracer un cercle avec un compas (nouvelle leçon)

Exercice de recherche :

- Placer un point C et placer de nombreux points situés à 3 centimètres du point C, tout autour de ce point.
 - Quelle forme se dessine autour du point C ? → Un cercle.
- Avec quel instrument peux-tu tracer cette forme ? → Avec un compas.

Exercices :

1 *

a. Faux

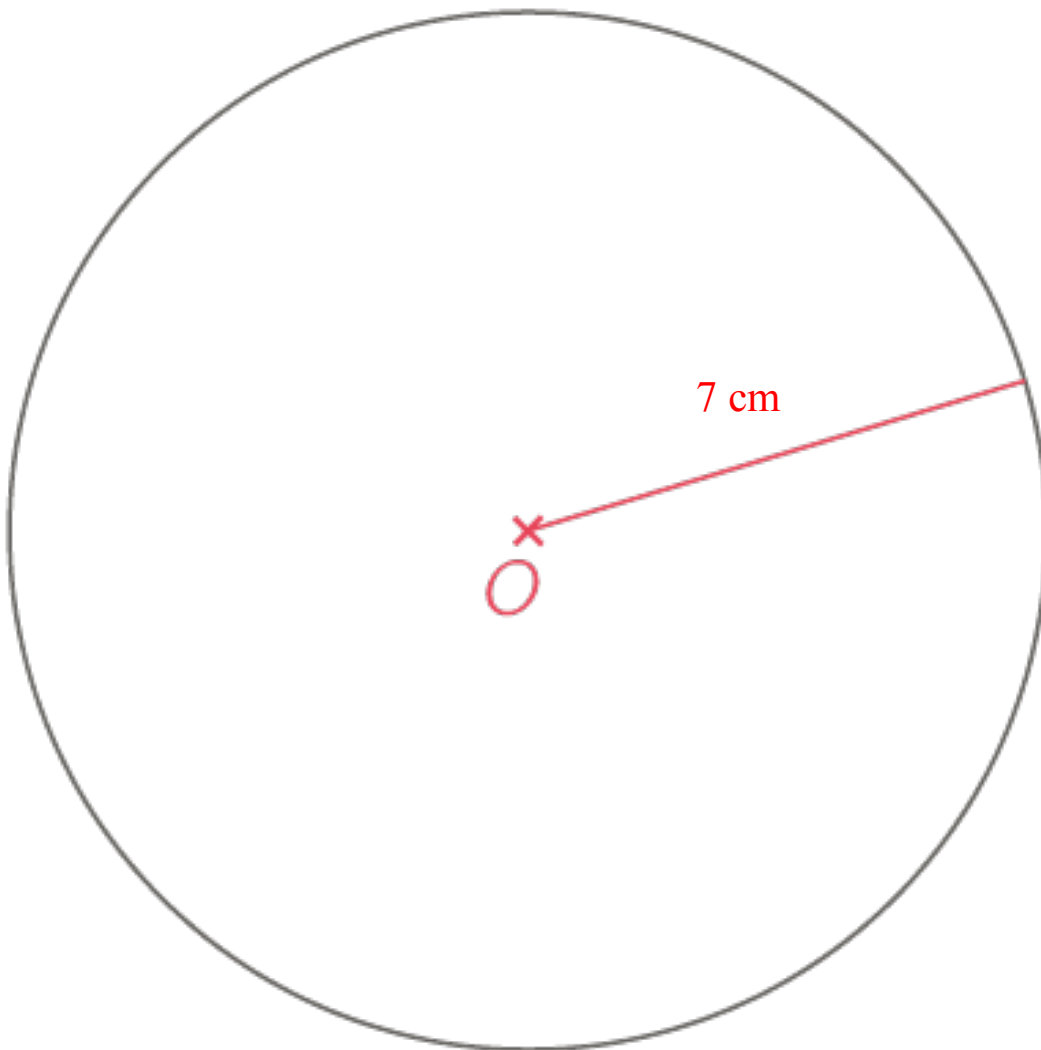
b. Faux

c. Vrai

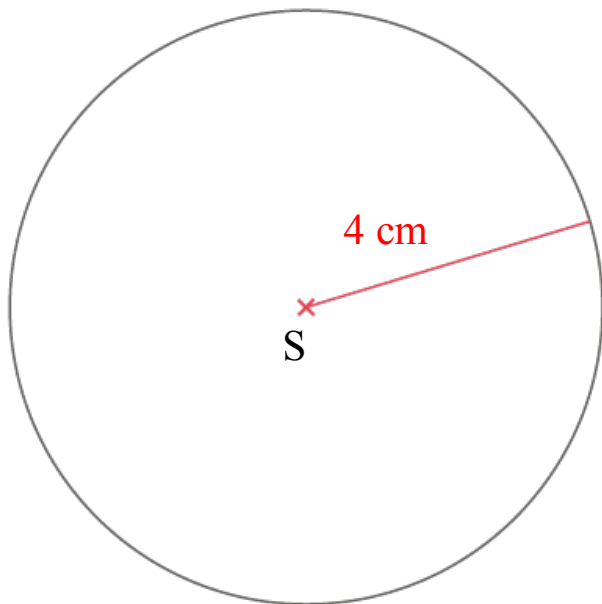
d. Vrai

e. Faux

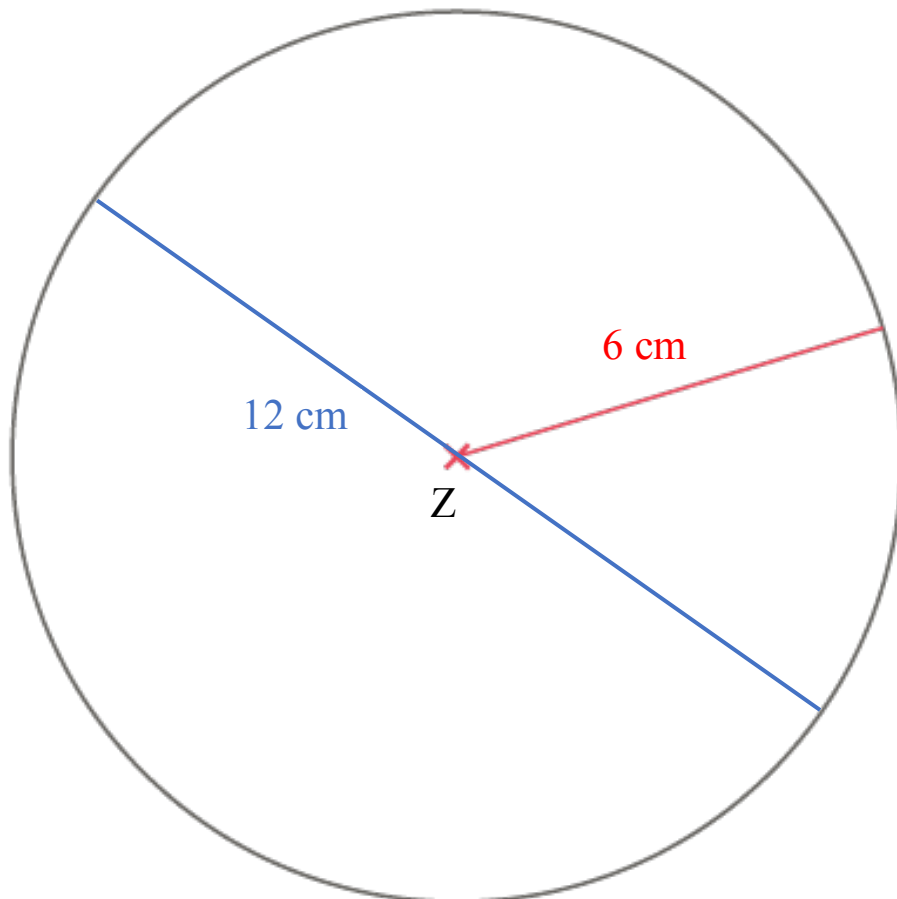
2. a.



b.



c. Attention : le diamètre est de 12 cm, donc le rayon est de 6 cm (la moitié du diamètre).

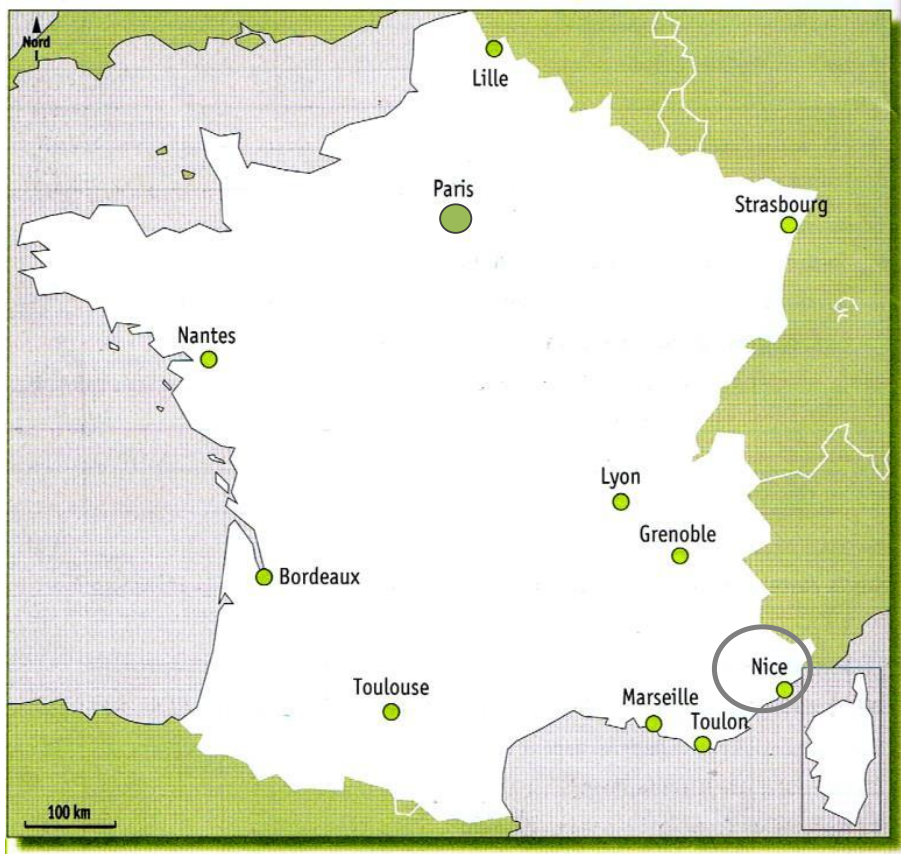


Français / Lecture compréhension :

- 1 – Les deux arbres les plus connus à Madagascar sont le ravinala (l'arbre du voyageur) et le baobab.
- 2 – Le plus petit lémurien s'appelle le micocèbe.
- 3 – Les lémuriens risquent de disparaître car les forêts sont brûlées et détruites.
- 4 – Les couleurs du drapeau malgache sont : blanc, rouge et vert.
- 5 – Les langues parlées à Madagascar sont le malgache et le français.



Les grandes villes



Trois Français sur quatre sont des citadins : ils vivent en ville*.

Paris, la capitale de la France compte plus de 2 millions d'habitants.

Les plus petites ne comptent que 2000 habitants.

Entre les deux il existe des villes de toutes les tailles.

2 Observe le tableau et réponds :

- 1 Quelle est la plus grande ville de France ?
o Paris
- 2 Combien d'habitants compte-t-elle ?
o 2 243 833
- 3 Quelle est la 2^{ème} plus grande ville de France ?
o Marseille

3 Observe la carte et réponds

- 1 Quelles grandes villes sont au bord de la mer ?
Nice Marseille
Toulon
- 2 Quelle grande ville se trouve :
o Au Nord de la France : Lille
o A l'Est de la France : Strasbourg

Agglomération	Habitants
Bordeaux	239 157
Grenoble	155 637
Lille	227 560
Lyon	484 344
Marseille	850 726
Nantes	284 970
Nice	343 304
Paris	2 243 833
Toulouse	441 802
Strasbourg	271 782