

Jeudi 26 mars – La maison lumni

Le son [ui] :

Lecture :

Niveau 1 :

Un parapluie
Une truite
Un biscuit

Aujourd'hui, Bui et papa sont dans la cuisine depuis midi. Papa a mis une truite à cuire au four, puis il a préparé une salade de fruits.

Niveau 2 :

Ma tante a huit chatons. Ils adorent se cacher dans les buissons, jouer sous la pluie près du puits. Mais la nuit venue, ils se fauillent dans la cuisine en suivant les bonnes odeurs qui se dégagent des casseroles en cuivre.

Ecriture (une ligne de chaque) :

ui _____

la nuit _____

une époussette _____

Dictée :

Niveau 1 :

Je rêve toutes les nuits.

Niveau 2 :

Le loup est en fuite. Tous les policiers sont à sa poursuite.

Devinettes

a) Ecris le verbe à l'infinitif (qui veut dire faire la cuisine)

Cuisinier - cuisiniste - cuisiner - cuisine

b) Ecris la personne qui fabrique des cuisines.

Cuisinier - cuisiniste - cuisiner - cuisine

c) Ecris la personne qui fait la cuisine

Cuisinier - cuisiniste - cuisiner - cuisine

Exercices :

1. Dans la phrase suivante :

a) entoure les deux noms.

b) Souligne le verbe conjugué.

Ma tante a huit chatons.

2. Conjugue le verbe être et le verbe avoir

Etre	Avoir
Je _____	Je _____
Tu _____	Tu _____
Il – elle - on _____	Il – elle - on _____
_____	_____
Nous _____	Nous _____
Vous _____	Vous _____
Ils - elles _____	Ils - elles _____

Lien vidéo

Jeu associé.

Mathématiques

Calcul mental :

La moitié de 20 est ...
La moitié de 40 est ...
La moitié de 60 est ...
La moitié de 80 est ...
La moitié de 100 est ...

Questions :

- Quelle est la moitié de 100 :
- Quelle est la moitié de 60 :
- Quel est le double de 40 :
- Quelle est la moitié de 80 :
- Quel est le double de 10 :
- Quelle est la moitié de 10 :
- Quel est le double de 30 :
- Quelle est la moitié de 40 :
- Quel est le double de 50 :
- Quelle est la moitié de 18 :

Les nombres :

- Lis les nombres suivants :

60	61	62	63	64	65	66	67	68	69
70	71	72	73	74	75	76	77	78	79



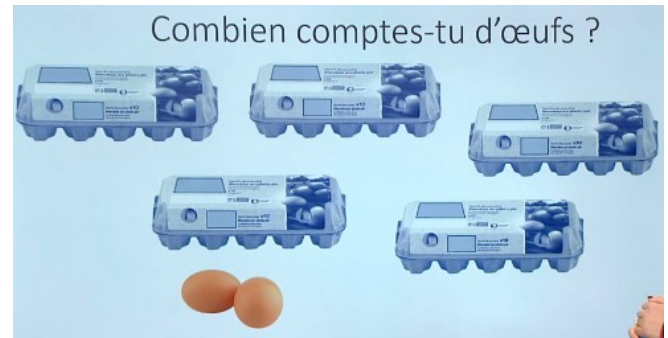
- écris (en chiffres) les nombres suivants (tes parents font la dictée) :

65 – 69 – 70 – 72 – 74 – 63 – 78 – 76

- Range les nombres par ordre croissant (du plus petit au plus grand) :

163 – 527 – 68 – 151 – 6 – 299

Les œufs :



Problèmes (Dessine, calcule, réponds) :

Première situation

Dans la réserve, il ne reste que des pommes et des poires.
Il y a vingt-sept fruits en tout. Il n'y a plus que quatre poires.
Combien y a-t-il de pommes ?

Deuxième situation

Dans la réserve, il ne reste que des pommes et des poires.
Il y a soixante-seize fruits en tout. Il n'y a plus que vingt poires.
Combien y a-t-il de pommes ?

